



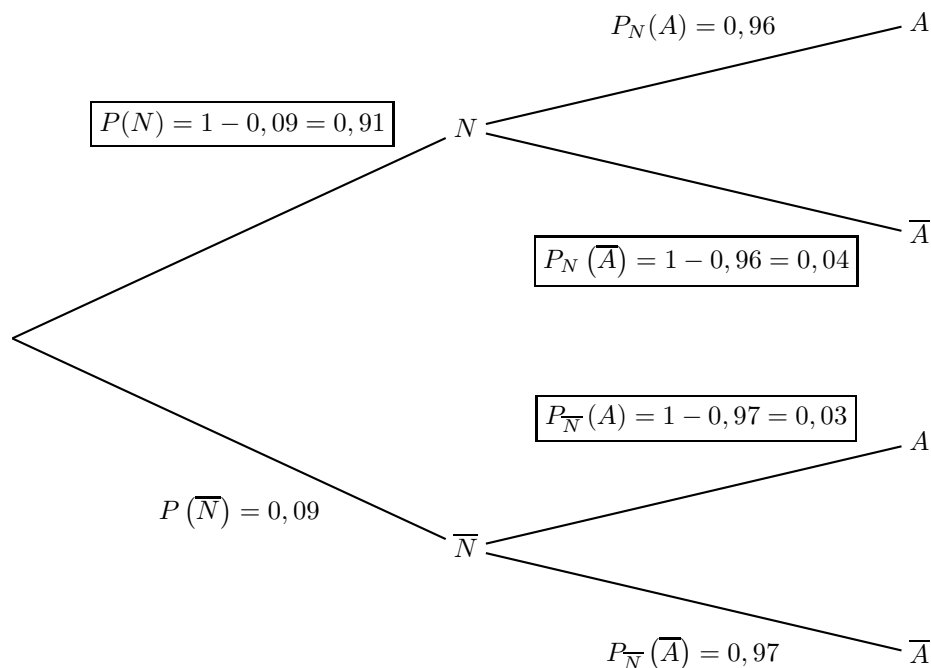
Ceci est la correction du sujet de la session de septembre du Bac S d'Antilles-Guyane, session dite de remplacement.

Exercice 1. Probabilités

6 points

Partie A

1. Construire un arbre pondéré représentant la situation exposée précédemment.



2. Démontrer que la probabilité qu'une peluche soit acceptée à l'issue des tests est **0,8763**.

La probabilité qu'une peluche soit acceptée est $P(A)$. D'après la formule des probabilités totales :

$$P(A) = P(N \cap A) + P(\bar{N} \cap A)$$

Donc

$$P(A) = P(N) \times P_N(A) + P(\bar{N}) \times P_{\bar{N}}(A)$$

$$P(A) = 0,91 \times 0,96 + 0,09 \times 0,03$$

$$P(A) = 0,8736 + 0,0027$$

$$P(A) = 0,8763$$

La probabilité qu'une peluche soit acceptée à l'issue des tests est de **0,8763**.

3. Calculer la probabilité qu'une peluche qui a été acceptée à l'issue des tests soit véritablement aux normes en vigueur. Arrondir le résultat au dix-millième.

La probabilité qu'une peluche qui a été acceptée soit aux normes est $P_A(N)$:

$$P_A(N) = \frac{P(N \cap A)}{P(A)} = \frac{0,8736}{0,8763} \approx 0,9969$$

La probabilité qu'une peluche qui a été acceptée soit véritablement aux normes est de **0,9969**, arrondie aux dix-millième.



Partie B

On considère que la vie d'une peluche se termine lorsqu'elle subit un dommage majeur. On admet que la durée de vie en années d'une peluche, notée D , suit une loi exponentielle de paramètre λ .

1. On sait que $P(D \leq 4) = 0,5$. Interpréter ce résultat dans le contexte de cet exercice.

L'égalité $P(D \leq 4) = 0,5$ traduit le fait que la probabilité que la peluche soit conforme pendant 4 ans ou moins est de 0,5.

Calculer la valeur exacte de λ .

Si D suit une loi exponentielle de paramètre λ , alors

$$P(D \leq a) = \int_{-\infty}^a \lambda e^{-\lambda t} dt = 1 - e^{-\lambda a}$$

Donc

$$P(D \leq 4) = 0,5 \iff 1 - e^{-4\lambda} = 0,5 \iff 0,5 = e^{-4\lambda} \iff \ln 0,5 = -4\lambda \iff \lambda = -\frac{\ln 0,5}{4}$$

soit

$$\lambda = -\frac{\ln 0,5}{4}$$

2. On prendra ici $\lambda = 0,1733$. Le jour de ses trois ans, un enfant qui joue avec cette peluche depuis sa naissance décide, voyant qu'elle est encore en parfait état, de la donner à sa sœur qui vient de naître. Calculer la probabilité pour que sa sœur la garde sans dommage majeur au moins cinq années supplémentaires. Arrondir le résultat au dix-millième.

La probabilité pour que sa sœur la garde sans dommage majeur au moins cinq années supplémentaires est la probabilité conditionnelle $P_{D \geq 3}(D \geq 3 + 5)$.

On sait que la loi exponentielle est une loi à « durée de vie sans vieillissement » c'est à dire que :

Propriété 1 (Durée de vie sans vieillissement)

Si X est une variable aléatoire suivant une loi exponentielle, alors pour tous réels positifs t et h :

$$P_{X \geq t}(X \geq t + h) = P(X \geq h)$$

Cette propriété traduit le fait que la loi exponentielle est « sans mémoire ».

Donc pour $t = 3$; $h = 5$:

$$\begin{aligned} P_{D \geq 3}(D \geq 3 + 5) &= P(D \geq 5) \\ &= 1 - P(D < 5) \\ &= 1 - (1 - e^{-5\lambda}) \\ &= e^{-5 \times 0,1733} \approx 0,4204 \end{aligned}$$

$$P_{D \geq 3}(D \geq 3 + 5) = P(D \geq 5) \approx 0,4204$$



Partie C

Le nombre de jours, noté J , où la peluche est son jouet préféré suit une loi normale de paramètres $\mu = 358$ jours et σ .

1. Soit $X = \frac{J - 358}{\sigma}$. Quelle est la loi suivie par X ?

Par propriété :

Propriété 2

Soit μ un réel et σ un réel strictement positif.

La variable aléatoire X suit la loi normale $\mathcal{N}(\mu; \sigma^2)$ si et seulement si, la variable aléatoire $Y = \frac{X - \mu}{\sigma}$ suit la loi normale centrée réduite $\mathcal{N}(0; 1)$.

Donc ici, puisque J suit la loi normale $\mathcal{N}(358; \sigma^2)$, la variable aléatoire $X = \frac{J - 358}{\sigma}$ suit la loi normale centrée réduite, c'est-à-dire la **loi normale de moyenne 0 et d'écart type 1**.

2. On sait que $P(J \leq 385) = 0,975$. Déterminer la valeur de σ arrondi à l'entier le plus proche.

On a puisque σ est un nombre strictement positif :

$$J \leq 385 \iff J - 358 \leq 27 \iff \frac{J - 358}{\sigma} \leq \frac{27}{\sigma}$$

On cherche donc σ pour que

$$P\left(X \leq \frac{27}{\sigma}\right) \leq 0,975$$

Sachant que X suit la loi normale centrée réduite.

La calculatrice donne

$$\frac{27}{\sigma} \approx 1,96$$

Ce qui équivaut à $\sigma \approx 13,77$. On prendra donc arrondi à l'entier le plus proche

$$\boxed{\sigma \approx 14}$$

Remarque : Sur la TI Voyage 200

$$\text{TISat.invNorm}(0.975) \approx 1,959\,963\,986$$



Exercice 2. Fonctions

6 points

Commun à tous les candidats

Partie A

On considère la fonction f définie et dérivable sur l'intervalle $[0 ; +\infty[$ par

$$f(x) = xe^{-x}.$$

1. Déterminer la limite de la fonction f en $+\infty$.

Propriété 3 (Limites liées à la fonction exponentielle)

$$\bullet (1) : \lim_{x \rightarrow +\infty} \frac{e^x}{x} = +\infty \quad \left| \quad \bullet (2) : \lim_{x \rightarrow -\infty} x e^x = 0 \quad \left| \quad \bullet (3) : \lim_{x \rightarrow 0} \frac{e^x - 1}{x} = 1$$

D'après le cours, le (1) de la propriété 3

$$\lim_{x \rightarrow +\infty} \frac{e^x}{x} = +\infty$$

Donc

$$\lim_{x \rightarrow +\infty} \frac{x}{e^x} = \lim_{x \rightarrow +\infty} x e^{-x} = 0$$

D'où

$$\lim_{x \rightarrow +\infty} f(x) = 0$$

La courbe représentative de f présente donc une **asymptote horizontale**, en $+\infty$, l'axe des abscisses d'équation $y = 0$.

2. Déterminer la dérivée f' de la fonction f sur $[0 ; +\infty[$ et en déduire le tableau de variations de f sur $[0 ; +\infty[$.

La fonction f est dérivable sur \mathbb{R} donc à fortiori sur $[0 ; +\infty[$ et par dérivation d'un produit de fonctions dérivables :

$$(uv)' = u'v + uv'$$

soit

$$\forall x \in [0 ; +\infty[; f'(x) = 1 \times e^{-x} + x(-1 \times e^{-x}) = e^{-x} - x e^{-x}$$

$$\forall x \in [0 ; +\infty[; f'(x) = (1 - x) e^{-x}$$

Pour tout réel x , $e^{-x} > 0$ donc $f'(x)$ est du signe de $(1 - x)$, soit nulle en 1 et positive avant 1. De plus

$$f(0) = 0 \text{ et } f(1) = e^{-1} \approx 0,37$$

D'où le tableau de variation de la fonction f sur $[0 ; +\infty[$:

x	0	1	$+\infty$
$f'(x)$		+	-
f	0	e^{-1}	0

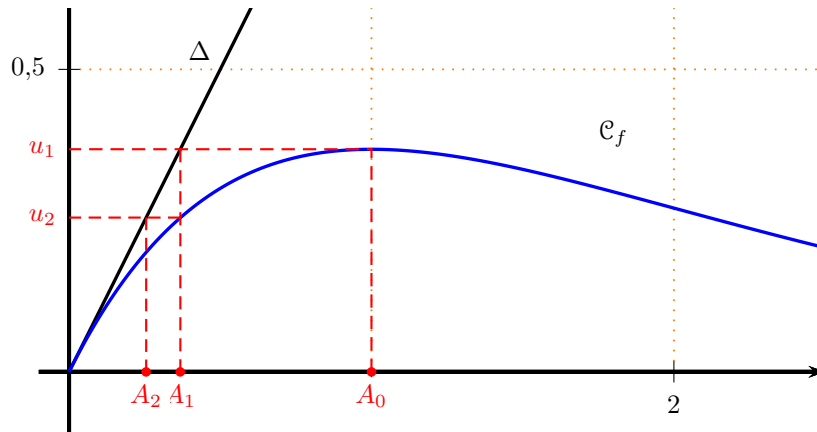
On donne la courbe \mathcal{C}_f représentative de la fonction f dans un repère du plan ainsi que la droite Δ d'équation $y = x$.



Partie B

Soit la suite (u_n) définie par $u_0 = 1$ et, pour tout entier naturel n , $u_{n+1} = f(u_n)$.

1. Placer sur le graphique, en utilisant la courbe \mathcal{C}_f et la droite Δ , les points A_0 , A_1 et A_2 d'ordonnées nulles et d'abscisses respectives u_0 , u_1 et u_2 . Laisser les tracés explicatifs apparents.



2. Démontrer par récurrence que pour tout entier naturel n , $u_n > 0$.

Soit pour n entier naturel, \mathcal{P}_n la propriété $u_n > 0$.

- **Initialisation.**

$u_0 = 1 > 0$ donc la propriété est vraie au rang 0.

- **Hérédité.**

On suppose la propriété vraie au rang $p \geq 0$, c'est-à-dire que $u_p > 0$ pour p entier naturel fixé.

Pour tout réel x , $e^{-x} > 0$ donc pour tout réel $x > 0$, $x e^{-x} > 0$ donc

$$\forall x \in]0 ; +\infty[; f(x) > 0$$

Or

$$u_{p+1} = f(u_p) \text{ et } u_p > 0 \text{ (hypothèse de récurrence)}$$

donc

$$f(u_p) = u_{p+1} > 0$$

La propriété est vraie au rang $p + 1$.

- **Conclusion.**

La propriété est vérifiée au rang 0, et elle est héréditaire pour tout entier $p \geq 0$; elle est donc vraie pour tout entier $n \geq 0$.

On a donc démontré que :

$$\boxed{\forall n \in \mathbb{N} ; u_n > 0}$$

3. Montrer que la suite (u_n) est décroissante.

Pour tout réel $x > 0$:

$$-x < 0 \iff e^{-x} < e^0 \quad : \text{Par croissance de la fonction exponentielle}$$

$$\iff e^{-x} < 1$$

$$\iff x e^{-x} < x \quad : \text{En multipliant les deux membres par } x \text{ strictement positif}$$

$$\iff f(x) < x$$

Donc

$$\forall x \in \mathbb{R}_+^* =]0 ; +\infty[; f(x) < x$$

Or pour tout entier n , $u_n > 0$ d'après la question précédente donc

$$\forall n \in \mathbb{N} ; f(u_n) = u_{n+1} < u_n$$

La suite (u_n) est donc décroissante.



4. 4. a. Montrer que la suite (u_n) est convergente.

La suite (u_n) est décroissante, minorée par 0, donc, d'après le *théorème de la convergence monotone*, la suite (u_n) est convergente.

4. b. On admet que la limite de la suite (u_n) est solution de l'équation $xe^{-x} = x$. Résoudre cette équation pour déterminer la valeur de cette limite.

On résout l'équation $xe^{-x} = x$ sur $\mathbb{R}_+ = [0; +\infty[$:

$$\begin{aligned}xe^{-x} = x &\iff x(e^{-x} - 1) = 0 &\iff x = 0 \text{ ou } e^{-x} - 1 = 0 \\ &\iff x = 0 \text{ ou } e^{-x} = 1 &\iff x = 0 \text{ ou } -x = 0\end{aligned}$$

Donc la limite de la suite (u_n) est égale à 0.

Partie C

On considère la suite (S_n) définie pour tout entier naturel n par $S_n = \sum_{k=0}^{k=n} u_k = u_0 + u_1 + \dots + u_n$

Compléter l'algorithme donné en annexe afin qu'il calcule S_{100}

Déclaration des variables :	S et u sont des nombres réels k est un nombre entier
Initialisation :	u prend la valeur <input type="text" value="1"/> S prend la valeur <input type="text" value="u"/>
Traitement :	Pour k variant de 1 à <input type="text" value="100"/> u prend la valeur $u \times e^{-u}$ S prend la valeur <input type="text" value="S + u"/>
	Fin Pour
	Afficher <input type="text" value="S"/>



Exercice 3. Équations

3 points

Commun à tous les candidats

On considère l'équation (E_1) , où x est un réel strictement positif et n un entier naturel non nul.

$$(E_1) : e^x - x^n = 0$$

1. Montrer que l'équation (E_1) est équivalente à l'équation $(E_2) : \ln(x) - \frac{x}{n} = 0$.

$$\begin{aligned} (E_1) : e^x - x^n = 0 &\iff e^x = x^n \\ &\iff \ln(e^x) = \ln(x^n) \\ &\iff x = n \ln(x) \\ (E_1) : e^x - x^n = 0 &\iff \frac{x}{n} = \ln(x) \end{aligned}$$

Soit

$$(E_1) : e^x - x^n = 0 \iff (E_2) : \ln(x) - \frac{x}{n} = 0$$

Les équations (E_1) et (E_2) sont équivalentes.

2. Pour quelles valeurs de n l'équation (E_1) admet-elle deux solutions ?

D'après la question précédente, l'équation (E_1) admet deux solutions si et seulement si l'équation (E_2) admet deux solutions.

- **Introduction d'une fonction auxiliaire f .**

Soit f la fonction définie sur $I =]0; +\infty[$, avec n entier naturel non nul, par

$$\forall x \in I ; f(x) = \ln(x) - \frac{x}{n}$$

Résoudre l'équation (E_2) revient donc à résoudre l'équation $f(x) = 0$.

- **Résolution de l'équation $f(x) = 0$.**

On va déterminer les variations de f puis chercher à appliquer le corollaire du théorème des valeurs intermédiaires.

- **Étude des variations de la fonction f .**

La fonction f est dérivable sur I avec

$$\forall x \in I ; f'(x) = \frac{1}{x} - \frac{1}{n} = \frac{n-x}{nx}$$

Or x et n sont positifs strictement sur I , donc $f'(x)$ est du signe de $(n-x)$ et s'annule et change de signe pour $x = n$. On a

$$f(n) = \ln(n) - \frac{n}{n} = \ln(n) - 1$$

D'où le tableau de variation de la fonction f :

x	0	n	$+\infty$
$n-x$		+	-
$f'(x)$		+	-
f	?	$\ln(n) - 1$?

- **Étude des limites de la fonction f aux bornes de I .**

Limite en 0

$$\left. \begin{aligned} \lim_{\substack{x \rightarrow 0 \\ x > 0}} \ln(x) &= -\infty \\ \lim_{x \rightarrow 0} \frac{x}{n} &= 0 \end{aligned} \right\} \begin{array}{l} \text{par somme} \\ \lim_{\substack{x \rightarrow 0 \\ x > 0}} f(x) = -\infty \end{array}$$



Limite en $+\infty$

La fonction f peut s'écrire sous la forme

$$\forall x \in I; f(x) = x \left(\frac{\ln(x)}{x} - \frac{1}{n} \right)$$

Donc pour n entier strictement positif :

$$\left. \begin{array}{l} \lim_{x \rightarrow +\infty} \frac{\ln(x)}{x} = 0 \implies \lim_{x \rightarrow +\infty} \frac{\ln(x)}{x} - \frac{1}{n} = -\frac{1}{n} < 0 \\ \lim_{x \rightarrow +\infty} x = +\infty \end{array} \right\} \lim_{x \rightarrow +\infty} x \left(\frac{\ln(x)}{x} - \frac{1}{n} \right) \stackrel{\text{par produit}}{=} -\infty$$

soit

$$\boxed{\lim_{x \rightarrow +\infty} f(x) = -\infty}$$

- Application du TVI.

D'après le tableau de variation, l'équation $f(x) = 0$ admet deux solutions dans $]0; +\infty[$ si et seulement si le maximum de la fonction f est strictement positif, c'est-à-dire quand $\ln(n) - 1 > 0$:

$$\ln(n) - 1 > 0 \iff \ln(n) > 1 \iff n > e \iff n \geq 3$$

On peut alors compléter le tableau de variations de f sur I .

x	0	β	n	α	$+\infty$
f	$-\infty$	0	$\ln n - 1 > 0$	0	$-\infty$

En effet dans ce cas :

Théorème 1 (Corolaire du théorème des valeurs intermédiaires)

Si f est une fonction définie, **continue** et strictement **monotone** sur un intervalle $[a; b]$, alors, pour tout réel k compris entre $f(a)$ et $f(b)$, l'équation $f(x) = k$ admet une unique solution dans $[a; b]$.

Sur l'intervalle $]0; n]$:

- * La fonction f est **continue** et **strictement croissante** sur l'intervalle $]0; n]$;
- * L'image par f de l'intervalle $]0; n]$ est $] -\infty; \ln n - 1]$ d'après le tableau de variations.
- * Le réel $k = 0$ appartient à l'intervalle image car $\ln n - 1 > 0$

Donc, d'après le **corollaire du théorème des valeurs intermédiaires**, l'équation $f(x) = k = 0$ admet une solution unique β sur l'intervalle $]0; n]$.

De même sur l'intervalle $[n; +\infty[$:

- * La fonction f est **continue** et **strictement décroissante** sur l'intervalle $[n; +\infty[$;
- * L'image par f de l'intervalle $[n; +\infty[$ est $[\ln n - 1; -\infty[$ d'après le tableau de variations.
- * Le réel $k = 0$ appartient à l'intervalle image car $\ln n - 1 > 0$

Donc, d'après le **corollaire du théorème des valeurs intermédiaires**, l'équation $f(x) = k = 0$ admet une solution unique α sur l'intervalle $[n; +\infty[$.

Pour conclure : l'équation $f(x) = 0$ admet exactement deux solutions dans I .

Donc on peut dire que **l'équation (E_1) admet deux solutions si et seulement si n est un entier naturel supérieur ou égal à 3.**



Exercice 4. Non Spécialité : Complexes

5 points

Réservé aux candidats n'ayant pas suivi l'enseignement de spécialité

On considère la fonction f qui à tout nombre complexe z associe

$$f(z) = z^2 + 2z + 9.$$

1. Calculer l'image de $-1 + i\sqrt{3}$ par la fonction f .

$$f(-1 + i\sqrt{3}) = (-1 + i\sqrt{3})^2 + 2(-1 + i\sqrt{3}) + 9$$

$$f(-1 + i\sqrt{3}) = 1 - 2i\sqrt{3} - 3 - 2 + 2i\sqrt{3} + 9$$

$$f(-1 + i\sqrt{3}) = 5$$

Donc l'image de $-1 + i\sqrt{3}$ par la fonction f est 5.

$$f(-1 + i\sqrt{3}) = 5$$

2. Résoudre dans \mathbb{C} l'équation $f(z) = 5$. Écrire sous forme exponentielle les solutions de cette équation. Construire alors sur le graphique, à la règle et au compas, les points A et B dont l'affixe est solution de l'équation.

- Résolution de l'équation :

$$f(z) = 5 \iff z^2 + 2z + 9 = 5 \iff z^2 + 2z + 4 = 0$$

L'équation est ramenée à une équation polynôme du second degré de la forme

$$ax^2 + bx + c = 0, \text{ avec } : a = 1 ; b = 2 ; c = 4.$$

Le discriminant $\Delta = -12 = (2i\sqrt{3})^2$ donc l'équation admet deux solutions imaginaires conjuguées.

$$z_1 = \frac{-2 + 2i\sqrt{3}}{2} \text{ et } z_2 = \bar{z}_1 \implies \mathcal{S} = \{-1 + i\sqrt{3}; -1 - i\sqrt{3}\}$$

- Écrire sous forme exponentielle les solutions de cette équation.

On appelle A le point d'affixe $z_A = -1 + i\sqrt{3}$ et B celui d'affixe $z_B = -1 - i\sqrt{3}$

$$|z_A| = \sqrt{1 + 3} = 2$$

$$\text{Soit } \theta_A \text{ un argument de } z_A : \left. \begin{array}{l} \cos \theta_A = -\frac{1}{2} \\ \sin \theta_A = \frac{\sqrt{3}}{2} \end{array} \right\} \implies \theta_A = \frac{2\pi}{3} + k2\pi \text{ où } k \in \mathbb{Z}$$

Donc

$$z_A = 2e^{\frac{2i\pi}{3}}$$

Les nombres complexes z_A et z_B sont conjugués, donc ils ont le même module et des arguments opposés d'où

$$z_B = 2e^{-\frac{2i\pi}{3}}$$

- Construction.

- Les complexes z_A et z_B sont de modules 2

$$|z_A| = 2 = |z_B|$$

Donc les points A et B se trouvent sur le cercle \mathcal{C} de centre O et de rayon 2.

- De plus la partie réelle des points A et B vaut -1 donc les deux points appartiennent aussi à la droite (d) d'équation $x = -1$.
- Les points A et B sont donc les deux points d'intersection de la droite (d) et du cercle \mathcal{C} . c.f. p 11



3. Soit λ un nombre réel. On considère l'équation $f(z) = \lambda$ d'inconnue z . Déterminer l'ensemble des valeurs de λ pour lesquelles l'équation $f(z) = \lambda$ admet deux solutions complexes conjuguées.

On a :

$$\forall z \in \mathbb{C} ; f(z) = \lambda \iff z^2 + 2z + 9 = \lambda \iff z^2 + 2z + 9 - \lambda = 0$$

Pour que l'équation $f(z) = \lambda$ admette deux solutions complexes conjuguées, il faut et il suffit que le discriminant du polynôme $z^2 + 2z + 9 - \lambda$ soit strictement négatif.

$$\Delta = 4 - 4(9 - \lambda) = 4 - 36 + 4\lambda = 4\lambda - 32$$

$$\Delta < 0 \iff 4\lambda - 32 < 0 \iff \lambda < 8$$

L'ensemble des valeurs de λ pour lesquelles l'équation $f(z) = \lambda$ admet deux solutions complexes conjuguées est l'intervalle

$$\boxed{]-\infty ; 8[}$$

4. Soit (F) l'ensemble des points du plan complexe dont l'affixe z vérifie $|f(z) - 8| = 3$. Prouver que (F) est le cercle de centre $\Omega(-1 ; 0)$ et de rayon $\sqrt{3}$. Tracer (F) sur le graphique.

On a :

$$\forall z \in \mathbb{C} ; f(z) - 8 = z^2 + 2z + 9 - 8 = z^2 + 2z + 1 = (z + 1)^2$$

Donc

$$|f(z) - 8| = |(z + 1)^2| = |z + 1|^2$$

Or le module d'un carré est égal au carré du module. Donc

$$\forall z \in \mathbb{C} ; |f(z) - 8| = 3 \iff |z + 1|^2 = 3 \iff |z + 1| = \sqrt{3}$$

Soit Ω le point d'affixe -1 , donc de coordonnées $(-1 ; 0)$; si on appelle M le point d'affixe z , alors

$$|z + 1| = \sqrt{3} \iff |z_M - z_\Omega| = \sqrt{3}$$

L'ensemble des points M vérifiant $|z_M - z_\Omega| = \sqrt{3}$ est le cercle de centre Ω et de rayon $\sqrt{3}$.

5. Soit z un nombre complexe, tel que $z = x + iy$ où x et y sont des nombres réels.

5. a. Montrer que la forme algébrique de $f(z)$ est $x^2 - y^2 + 2x + 9 + i(2xy + 2y)$

$$\begin{aligned} \forall z \in \mathbb{C} ; f(z) &= z^2 + 2z + 9 \\ &= (x + iy)^2 + 2(x + iy) + 9 \\ f(z) &= x^2 + 2ixy - y^2 + 2x + 2iy + 9 \end{aligned}$$

Donc

$$\boxed{\forall z \in \mathbb{C} ; f(z) = x^2 - y^2 + 2x + 9 + i(2xy + 2y)}$$

5. b. On note (E) l'ensemble des points du plan complexe dont l'affixe z est telle que $f(z)$ soit un nombre réel. Montrer que (E) est la réunion de deux droites D_1 et D_2 dont on précisera les équations.

Pour tout complexe z :

$$f(z) \text{ réel} \iff 2xy + 2y = 0 \iff 2y(x + 1) = 0 \iff y = 0 \text{ ou } x = -1$$

Donc (E) est la réunion de deux droites D_1 d'équation $y = 0$ (l'axe des abscisses) et D_2 d'équation $x = -1$.

6. Déterminer les coordonnées des points d'intersection des ensembles (E) et (F).

Le cercle (F) est de centre Ω d'affixe -1 et de rayon $\sqrt{3}$. Donc les points d'intersection du cercle (F) avec l'axe des abscisses ont pour coordonnées

$$(-1 - \sqrt{3}; 0) \text{ et } (-1 + \sqrt{3}; 0).$$

Les points A et B ont pour affixes z_A et z_B dont les parties réelles sont égales à -1 ; donc A et B sont situés sur la droite D_2 .

$$\Omega A = |z_A - z_\Omega| = |-1 + i\sqrt{3} + 1| = |i\sqrt{3}| = \sqrt{3}$$

Donc le point A appartient au cercle (F).

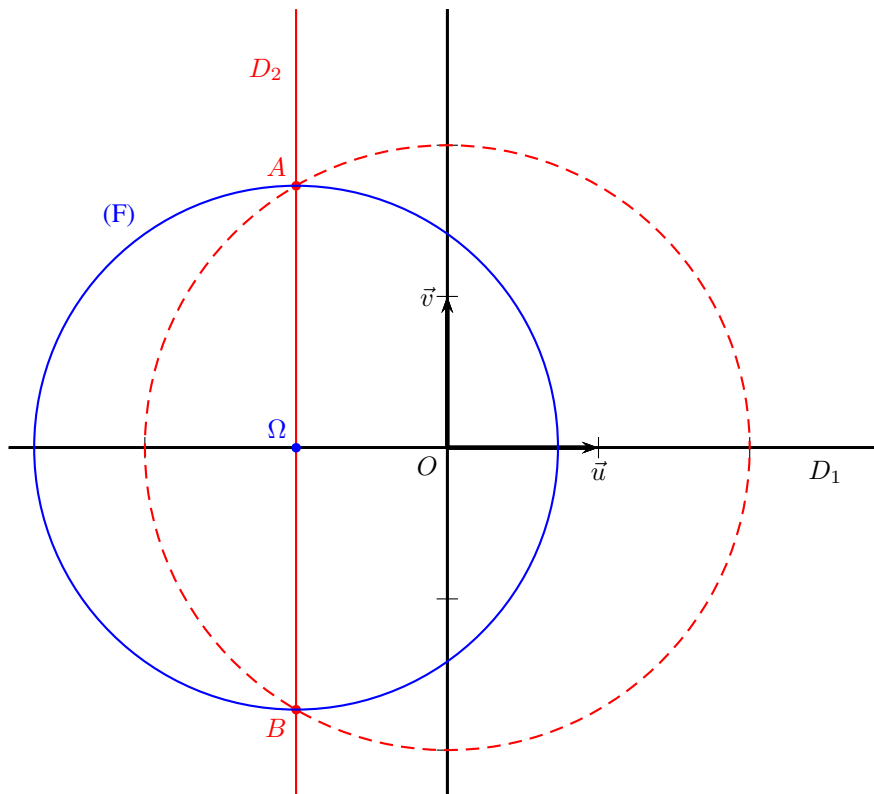


$$\Omega B = |z_B - z_\Omega| = |-1 - i\sqrt{3} + 1| = |-i\sqrt{3}| = \sqrt{3}$$

Donc le point B appartient au cercle (F).

Les coordonnées des quatre points d'intersection des ensembles (E) et (F) sont :

$$\boxed{(-1 - \sqrt{3}; 0), (-1 + \sqrt{3}; 0), (-1; \sqrt{3}) \text{ et } (-1; -\sqrt{3})}$$





Exercice 4. Spécialité : Graphe et matrices

5 points

Réservé aux candidats ayant suivi la spécialité

On note U_n la matrice $\begin{pmatrix} x_n \\ y_n \end{pmatrix}$ et on note $I = \begin{pmatrix} 1 & 0 \\ 0 & 1 \end{pmatrix}$.

On suppose que le 1^{er} janvier de l'année 2014, l'agence X possède 50 millions d'euros et l'agence Y possède 10 millions d'euros. L'évolution de la quantité de fonds est régie par la relation suivante :

$$U_{n+1} = AU_n + B, \text{ où } A = \begin{pmatrix} 0,6 & 0,15 \\ 0,2 & 0,4 \end{pmatrix} \text{ et } B = \begin{pmatrix} 1 \\ 3 \end{pmatrix}.$$

1. Interpréter dans le contexte de l'exercice le coefficient 0,6 de la matrice A et le coefficient 3 de la matrice B.

Pour tout entier n on a :

$$\begin{aligned} \forall n \in \mathbb{N}; U_{n+1} = AU_n + B &\iff \begin{pmatrix} x_{n+1} \\ y_{n+1} \end{pmatrix} = \begin{pmatrix} 0,6 & 0,15 \\ 0,2 & 0,4 \end{pmatrix} \times \begin{pmatrix} x_n \\ y_n \end{pmatrix} + \begin{pmatrix} 1 \\ 3 \end{pmatrix} \\ &\iff \begin{cases} x_{n+1} = 0,6x_n + 0,15y_n + 1 \\ y_{n+1} = 0,2x_n + 0,4y_n + 3 \end{cases} \end{aligned}$$

- Le coefficient 0,6 = 60% de A correspond au **pourcentage de ce qui reste d'une année sur l'autre à l'agence X.**
- Le coefficient 3 de B correspond à **la somme (en millions d'euros) qui est rajoutée chaque année à l'agence Y.**

2. Donner la matrice U_0 puis calculer la quantité de fonds détenue par chacune des agences X et Y en 2015, exprimée en millions d'euros.

D'après le texte,

$$U_0 = \begin{pmatrix} 50 \\ 10 \end{pmatrix}$$

La quantité de fonds dans chaque agence en 2015 est donnée par la matrice $U_1 = AU_0 + B$ soit

$$\begin{pmatrix} x_1 \\ y_1 \end{pmatrix} = \begin{pmatrix} 0,6 & 0,15 \\ 0,2 & 0,4 \end{pmatrix} \times \begin{pmatrix} 50 \\ 10 \end{pmatrix} + \begin{pmatrix} 1 \\ 3 \end{pmatrix} = \begin{pmatrix} 0,6 \times 50 + 0,15 \times 10 + 1 \\ 0,2 \times 50 + 0,4 \times 10 + 3 \end{pmatrix} = \begin{pmatrix} 32,5 \\ 17 \end{pmatrix}$$

En 2015, il y a donc **32,5 millions d'euros dans l'agence X et 17 millions d'euros dans l'agence Y.**

3. On note $D = \begin{pmatrix} 0,3 & 0 \\ 0 & 0,7 \end{pmatrix}$, $P = \begin{pmatrix} 1 & 3 \\ -2 & 2 \end{pmatrix}$ et $Q = \begin{pmatrix} 0,25 & -0,375 \\ 0,25 & 0,125 \end{pmatrix}$.

3. a. Donner sans détailler le calcul, la matrice PDQ .

A la calculatrice, on trouve que

$$PDQ = \begin{pmatrix} 0,6 & 0,15 \\ 0,2 & 0,4 \end{pmatrix}$$

donc

$$\boxed{PDQ = A}$$

3. b. Expliciter le calcul du coefficient de la première ligne et de la deuxième colonne du produit matriciel QP .

$$QP = \begin{pmatrix} 0,25 & -0,375 \\ 0,25 & 0,125 \end{pmatrix} \times \begin{pmatrix} 1 & 3 \\ -2 & 2 \end{pmatrix} = \begin{pmatrix} 0,25 \times 1 + (-0,375) \times (-2) & \boxed{0,25 \times 3 + (-0,375) \times 2} \\ 0,25 \times 1 + 0,125 \times (-2) & 0,25 \times 3 + 0,125 \times 2 \end{pmatrix}$$

Le coefficient situé sur la première ligne et la deuxième colonne de la matrice QP est donc :

$$0,25 \times 3 + (-0,375) \times 2 = 0,75 - 0,75 = 0$$

Dans la suite, on admettra que $QP = I$.

On admettra dans la suite de cet exercice que pour tout entier naturel non nul n , $A^n = PD^nQ$.



4. On pose pour tout entier naturel n , $V_n = U_n - \begin{pmatrix} 5 \\ \frac{20}{3} \end{pmatrix}$; donc $U_n = V_n + \begin{pmatrix} 5 \\ \frac{20}{3} \end{pmatrix}$

4. a. Démontrer que pour tout entier naturel n , $V_{n+1} = AV_n$.

On a :

$$\begin{aligned} \forall n \in \mathbb{N}; V_{n+1} &= U_{n+1} - \begin{pmatrix} 5 \\ \frac{20}{3} \end{pmatrix} \\ V_{n+1} &= AU_n + B - \begin{pmatrix} 5 \\ \frac{20}{3} \end{pmatrix} \\ &= A \left(V_n + \begin{pmatrix} 5 \\ \frac{20}{3} \end{pmatrix} \right) + \begin{pmatrix} 1 \\ 3 \end{pmatrix} - \begin{pmatrix} 5 \\ \frac{20}{3} \end{pmatrix} \\ &= AV_n + \begin{pmatrix} 0,6 & 0,15 \\ 0,2 & 0,4 \end{pmatrix} \times \begin{pmatrix} 5 \\ \frac{20}{3} \end{pmatrix} + \begin{pmatrix} 1 \\ 3 \end{pmatrix} - \begin{pmatrix} 5 \\ \frac{20}{3} \end{pmatrix} \\ &= AV_n + \begin{pmatrix} 0,6 \times 5 + 0,15 \times \frac{20}{3} + 1 - 5 \\ 0,2 \times 5 + 0,4 \times \frac{20}{3} + 3 - \frac{20}{3} \end{pmatrix} \\ V_{n+1} &= AV_n + \begin{pmatrix} 0 \\ 0 \end{pmatrix} \end{aligned}$$

$$\boxed{\forall n \in \mathbb{N}; V_{n+1} = AV_n}$$

4. b. Déterminer V_0 puis pour tout entier naturel n , donner l'expression de V_n en fonction de A , n et V_0 .

$$V_0 = U_0 - \begin{pmatrix} 5 \\ \frac{20}{3} \end{pmatrix} = \begin{pmatrix} 50 \\ 10 \end{pmatrix} - \begin{pmatrix} 5 \\ \frac{20}{3} \end{pmatrix} = \begin{pmatrix} 45 \\ \frac{10}{3} \end{pmatrix}$$

On peut écrire en appliquant les résultats du cours que :

$$\boxed{\forall n \in \mathbb{N}; V_n = A^n \times V_0}$$

5. Soit n un entier naturel. On admet que $A^n = \begin{pmatrix} 0,25 \times 0,3^n + 0,75 \times 0,7^n & 0,375(-0,3^n + 0,7^n) \\ 0,5(-0,3^n + 0,7^n) & 0,75 \times 0,3^n + 0,25 \times 0,7^n \end{pmatrix}$

5. a. Déterminer le coefficient de la première ligne de la matrice V_n en détaillant les calculs.

D'après les questions précédentes,

$$\forall n \in \mathbb{N}; V_n = A^n \times V_0 = \begin{pmatrix} \alpha_n \\ \beta_n \end{pmatrix}$$

Donc le coefficient α_n de la première ligne de V_n est :

$$\begin{aligned} \alpha_n &= (0,25 \times 0,3^n + 0,75 \times 0,7^n) \times 45 + (0,375(-0,3^n + 0,7^n)) \times \frac{10}{3} \\ \alpha_n &= 11,25 \times 0,3^n + 33,75 \times 0,7^n + 1,25(-0,3^n + 0,7^n) \\ \alpha_n &= 11,25 \times 0,3^n + 33,75 \times 0,7^n - 1,25 \times 0,3^n + 1,25 \times 0,7^n \end{aligned}$$

$$\boxed{\alpha_n = 10 \times 0,3^n + 35 \times 0,7^n}$$



5. b. En déduire l'expression de x_n en fonction de n .

$$\forall n \in \mathbb{N}; U_n = V_n + \left(\frac{5}{3} \right)$$

et donc en appliquant les résultats précédents

$$\forall n \in \mathbb{N}; \begin{pmatrix} x_n \\ y_n \end{pmatrix} = \begin{pmatrix} 10 \times 0,3^n + 35 \times 0,7^n \\ \beta_n \end{pmatrix} + \begin{pmatrix} 5 \\ \frac{20}{3} \end{pmatrix}$$

Soit

$$\boxed{\forall n \in \mathbb{N}; x_n = 10 \times 0,3^n + 35 \times 0,7^n + 5}$$

5. c. Déterminer la limite de x_n quand n tend vers $+\infty$ et interpréter ce résultat dans le cadre du problème.

Par théorème

Théorème 2

Si le réel q est tel que : $-1 < q < 1$ on a

$$\lim_{n \rightarrow +\infty} q^n = 0$$

De ce fait, ici $-1 < 0,7 < 1$ et $-1 < 0,3 < 1$ donc d'après le théorème 2 :

$$\lim_{n \rightarrow +\infty} 10 \times (0,3)^n = 0 = \lim_{n \rightarrow +\infty} 35 \times (0,7)^n$$

Ce qui nous donne la limite de la suite (x_n) :

$$\boxed{\lim_{n \rightarrow +\infty} x_n = 5}$$

Cela signifie que **la quantité de fonds disponibles dans l'agence X va tendre vers 5 millions d'euros.**